

# 苏教版数学一年级上册期末练习卷 A

总分值：100 分 考试时间：60 分

## 一、计算

1. 直接写出得数。(每题 1 分, 共 16 分。)

$3+8=11 \quad 10-10=0 \quad 2+9=11 \quad 16-6+8=18$

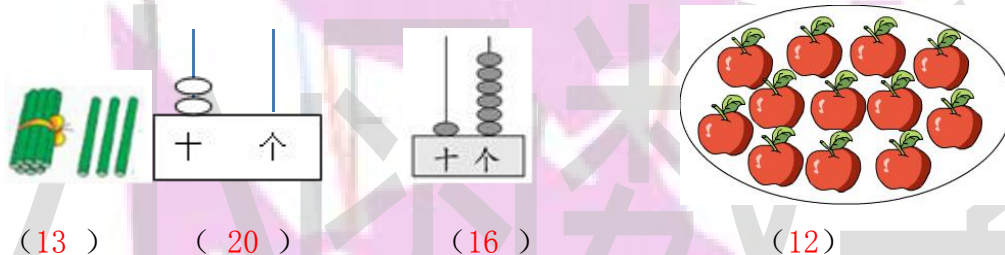
$8-5=3 \quad 9+9=18 \quad 5+6=11 \quad 6+1+9=16$

$10-2=8 \quad 8-0=8 \quad 15-(10)=5 \quad 6+9-5=10$

$9+6=15 \quad 4+7=11 \quad 4+(7)=11 \quad 10-5-3=2$

## 二、填空(每空 1 分, 共 36 分。)

1. 看图在 ( ) 里写数。

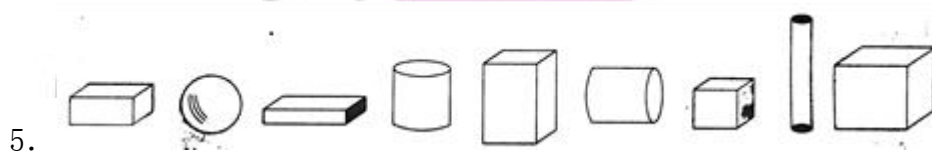


2. 16 里面有 (1) 个十和 (6) 个一, 这个数的前一个数是 (15), 后一个数是 (17)。



3. 在 6、2、20、18、11 中, 从左往右数, 第 3 个数是 (20), 从右往左数, 18 排在第 (2) 个。把它们按从大到小的顺序排列是:

$(20) > (18) > (11) > (6) > (2)。$

4. 个位上的数是 2, 十位上的数是 1, 这个两位数是 (12)。1 个十和 4 个一合起来是 (14)。



5.

(1) 从左边数起, 第 (4) 个是 , 第 (7) 个和第 (9) 个是 。

(2) 正方体有 (2) 个, 长方体有 (3) 个, 圆柱有 (3) 个, 球有 (1)。

个。

6. 找规律，填一填。

(1) ( 20 ), 19, ( 18 ), 17, ( 16 )。

(2) 10, 7, 5, 4, ( 4 )。

7. 在 ○ 里填上 “<”、“>” 或 “=”。

$$9-3 < 9 \quad 10+4 = 9+5 \quad 14-4 > 9+2$$

8.  $\square + \square + \square = 15$ ,  $\triangle + \square = 9$ ,  $\square - \triangle = ( 1 )$ 。

9. 照下图这样，小玲把 ( 11 ) 根短绳连在一起，打了 10 个结。




10. 10 个小朋友排成一队做操，从前往后数，小明站在第 3 个，从后往前数，小芳站在第 4 个，小明和小芳之间有 ( 3 ) 个小朋友。

11. 陈老师给新买的一批书按顺序编号为 10~18 号，他买回了 ( 9 ) 本书。

12. 树上有一些小鸟，第一次飞走 8 只，第二次飞走的和第一次同样多，两次一共飞走 ( 16 ) 只。

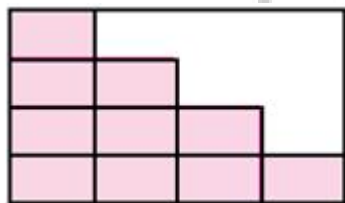
三、选择（每题 2 分，共 16 分。）

1. 下图中哪支铅笔长？ ( B )



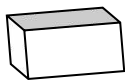
A. ①    B. ②    C. 一样长

2. 下图还要几块才能铺满？ ( B )

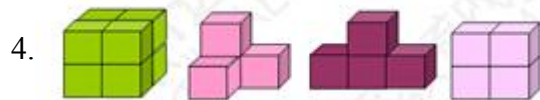


A. 5 块    B. 6 块    C. 7 块

3. 下面哪种立体图形能在纸上印出圆形？ ( B )



A. 第一个 B. 第二个 C. 第三个 D. 第四个



哪一个方块个数最多? ( A )


A. 第一个 B. 第二个 C. 第三个 D. 第四个

5. ( ) + 7 < 16, ( ) 里最大填几? ( C )

A. 6 B. 7 C. 8 D. 9

6. 小红读了一本童话书, 第一天读了 4 页, 第二天读了 5 页, 第三天读了 6 页, 第四天她要从第几页读起? ( D )

A. 第 10 页 B. 第 11 页 C. 第 15 页 D. 第 16 页



7. , ( C ) 最重, ( B ) 最轻。

A. 萝卜 B. 西红柿 C. 菠萝 D. 无法确定

8. 从第一行拿 ( A ) 个  放在第二行, 两行就同样多。



A. 2 个 B. 4 个 C. 6 个 D. 8 个

四、解决实际问题 (每题 4 分, 共 32 分。)

1. 学校乒乓球队男同学有 8 人, 女同学有 6 人。一共有 ( 14 ) 人。



2. 小兔有 13 根萝卜, 送给山羊一些后, 还剩 10 根。小兔送给山羊 ( 3 ) 根萝卜。



3.



看图列式:  $10-4-3=3$

看图列式:  $13-3=10$

4. 妈妈带着姐弟俩去公园玩, 儿童票 4 元, 成人票 8 元, 妈妈买门票一共要付 ( 16 ) 元。

5.



一共有 ( 11 ) 只兔子, 小灰一共拔了 ( 18 ) 根萝卜。

6. 第一小组有男生 7 人, 女生 5 人。这些学生坐一辆汽车去动物园, 坐哪一辆车比较合适? ( ③ )



①




②



③

7.



(1) 从右数起, 有 6 朵花的是第 ( 4 ) 盆, 这盆花再放 ( 6 ) 朵花就是 12 朵花。

(2) 如果小红从里面搬走了两盆花, 她最多搬走了 ( 13 ) 朵, 最少搬走了 ( 5 ) 朵。

8. 树上有 9 只鸟。(1) 又飞来了 4 只鸟, 树上现在有 ( 13 ) 只鸟。

(2) 飞走了 3 只鸟, 树上现在有 ( 6 ) 只鸟。



# 小函数数学

## 苏教版数学一年级上册期末练习卷 A 答案

### 一、计算

1. 直接写出得数。(每题 1 分, 共 16 分。)

11、0、11、18; 3、18、11、16; 8、8、10、10; 15、11、7、2

### 二、填空(每空 1 分, 共 36 分。)

1. 13、20、16、12;

2. 1、6、15、17;

3. 20、2; 20、18、11、6、2;

4. 14;

5. (1) 4、7、9; (2) 2、3、3、1;

6. (1) 20、18、16; (2) 4;

7.  $<$ 、 $=$ 、 $>$ ; 8. 1; 9. 11; 10. 3; 11. 9; 12. 16;

### 三、选择(每题 2 分, 共 14 分。)

1. A; 2. B; 3. B; 4. D; 5. C; 6. D; 7. B、A; 8. A;

### 四、解决实际问题(每题 4 分, 共 32 分。)

1. 14; 2. 3; 3.  $10-4-3=3$ 、 $13-3=10$ ; 4. 16;

5. 11、18; 6. ③; 7. (1) 4、6; (2) 13、5;

8. 13、6;

